

Mendelova univerzita v Brně
Lesnická a dřevařská fakulta
Ústav nauky o dřevě

Stavba dřeva

Určování dřev podle makroskopických znaků

pracovní listy do cvičení

Tento projekt je spolufinancován Evropským sociálním fondem a Státním rozpočtem ČR
InoBio – CZ.1.07/2.2.00/28.0018

Úkol č. 1

U následujících snímků okótujte šířku letokruhu, šířku jarního a letního dřeva:



Úkol č. 2

U následujících snímků označte písmenem základní řezy dřevem:

P – řez příčný

R – řez radiální

T – řez tangenciální



Úkol č. 3

U následujících snímků označte číslem příslušnou skupinu dřev:

- 1 – dřevo jehličnatých dřevin
- 2 – dřevo listnatých dřevin s kruhovitě pórovitou stavbou dřeva
- 3 – dřevo listnatých dřevin s roztroušeně pórovitou stavbou dřeva





evropský
sociální
fond v ČR



EVROPSKÁ UNIE




MINISTERSTVO ŠKOLSTVÍ,
MLÁDEŽE A TĚLOVÝCHOVY




INVESTICE DO ROZVOJE VZDĚLÁVÁNÍ

Úkol č. 4

a) Zakreslete vzhled pryskyřičných kanálků na základních řezech:



P




R




T

b) Zakreslete vzhled dřevňových skvrn na základních řezech:



P



R



T

Úkol č. 5

Rozdělte vzorky dřev do skupin a čísla vzorků pak zapište do pracovního listu:

a) dřeva jehličnatých dřevin: _____

b) dřeva listnatých dřevin s kruhovitě pórovitou stavbou dřeva: _____

c) dřeva listnatých dřevin s polokruhovitě pórovitou stavbou dřeva: _____